



Pagina 1



Groep 8  
Colofon

# China

## – Landschap en klimaat in Peking –

### Inleiding.

Opdracht: maak 2 woordwebben aan de hand van de 2 thema's.



*schrijf er zoveel mogelijk bij wat jij al weet.*



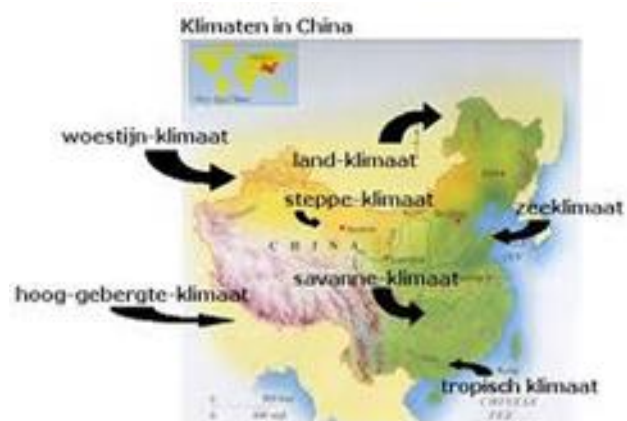
**In welk klimaat leven we eigenlijk in Nederland?**

1. Tropisch klimaat
2. Woestijn klimaat
3. Middelands zeeklimaat
4. Zeeklimaat
5. Land klimaat

Vraagje...  
Noem nu eens van Nederland en China het klimaat en een favoriet land van je.



**In welk klimaat zou jij het liefst willen wonen?**





## Pagina 3

### Weetje...

Peking ligt in een  
van de laaglanden  
van China.

De docent heeft laten zien hoe het landschap rondom Beijing eruit ziet. Hierbij hebben jullie ook gezien hoe de Gele rivier eruit ziet.

Vraag: wat maakt het landschap in China zoveel anders dan het landschap in Nederland?

Vraag: je hebt de Gele rivier gezien, wat is nu zo anders als de rivieren die jij kent in Nederland?

**Zelfstandig lezen, streep de lastige woorden in de tekst aan en maak de opdracht.**

### Klimaat en geografie

China heeft een grote variatie in geografie, landschappen en klimaten; tropisch regenwoud, rijstvelden, woestijnen, graslanden, besneeuwde bergtoppen, stranden, enorme steden en kleine dorpen wisselen elkaar af. Het is niet mogelijk om voor heel China per maand een gemiddelde temperatuur te geven. Door de grootte van het land en door de hoogteverschillen zijn er grote verschillen. De klimaten variëren van subtropisch in de zuidelijke provincies tot gematigd in het noorden. De noordelijke winters zijn koud. In Beijing komt de temperatuur dan niet boven de 0° C en een gure ijskoude wind uit het noorden doet het nog kouder aanvoelen. Over het algemeen is het in de winter wel droog en zonnig. Vanaf maart stijgt de temperatuur tot gemiddeld 20° C. In de zomermaanden is het vrij warm, tussen 25° C en 30° C. De temperatuur kan dan zelf oplopen tot 35° C of hoger. In de herfst is het overdag nog redelijk warm, maar koelt het 's avonds sterk af.

In het zuiden zijn de verschillen in temperatuur minder groot. Het is 's zomers wel iets warmer dan in het noorden en de temperatuur daalt 's winters zelden beneden het vriespunt. De hete, vochtige periode valt tussen april en september; de temperatuur kan dan stijgen tot 38° C. De zomer is het regenseizoen. De winters (januari-maart) zijn kort.

In Centraal China zijn de zomers lang, heet en vochtig. Tussen april en oktober kent men daar de hoogste temperaturen. De winters zijn kort en koud en de temperaturen kunnen dalen tot 0° C.

Aan de kust zorgt een zeeklimaat voor de gematigde temperaturen, met in verhouding meer regen in de zomer. De hooglanden kennen een bergklimaat met strenge winters en matig warme zomers. Je ziet, het hangt van je route en periode waarin je reist af, wat het beste is om aan kleding mee te nemen.

Heel globaal kan China in verschillende klimaatzones worden verdeeld:

- De woestijn- en steppegebieden van Mongolië en Xinjiang bestaan uit droge steppen, bekkens, hoogvlakten en woestijnen. Het gebied behoort geografisch tot Centraal-Azië. De hoogvlakten worden door bergruggen gescheiden. De communicatielijnen volgen de oases, waaromheen de steden zijn geconcentreerd. In dit gebied is het klimaat continentaal, met droge en koude winters en hete tot zeer hete zomers. De temperatuursverschillen tussen dag (zeer heet) en nacht (koud) zijn erg groot.



## Pagina 4

- Het noordoostelijke deel - met de belangrijkste steden Shenyang, Dalian en Harbin - kent uitgestrekte laagvlaktes waar de winters lang en koud en de zomers kort en heet zijn.
- Het noordcentrale gebied wordt door heuvelruggen van de Yangzi gescheiden. Het gebied ligt over het algemeen onder de 200 meter en bevat de Delta van de Gele rivier (Hüanghe) en andere rivieren. Het gebied is erg gevoelig voor overstromingen en droogte. Het noordoostelijk deel en Centraal China kent een landklimaat met hete zomers en koude winters waarin het vaak vriest. In de zomer valt de meeste neerslag. In de lente komen er regelmatig stofwinden voor.

Opdracht.

Beschrijf kort wat voor klimaat je kunt verwachten als je in Beijing bent. In welke klimaat zone bevindt Beijing zich?